

แบบฝึกทักษะ

กลุ่มสาระการเรียนรู้คณิตศาสตร์ ชั้นประถมศึกษาปีที่ 2

เรื่อง การแก้โจทย์ปัญหาการบวกและการลบจำนวนนับ

ที่มีผลลัพธ์และตัวตั้งไม่เกิน 100

ชุดที่ 1 เรื่อง การวิเคราะห์โจทย์ปัญหาการบวกที่ไม่มีการทด

9999999



1 2 3

+ ■ + ■ + ■ +

นายจ่านงค์ ดวงแก้ว

โรงเรียนบ้านสันป่าสัก

สำนักงานเขตพื้นที่การศึกษาประถมศึกษาพะเยา เขต 1


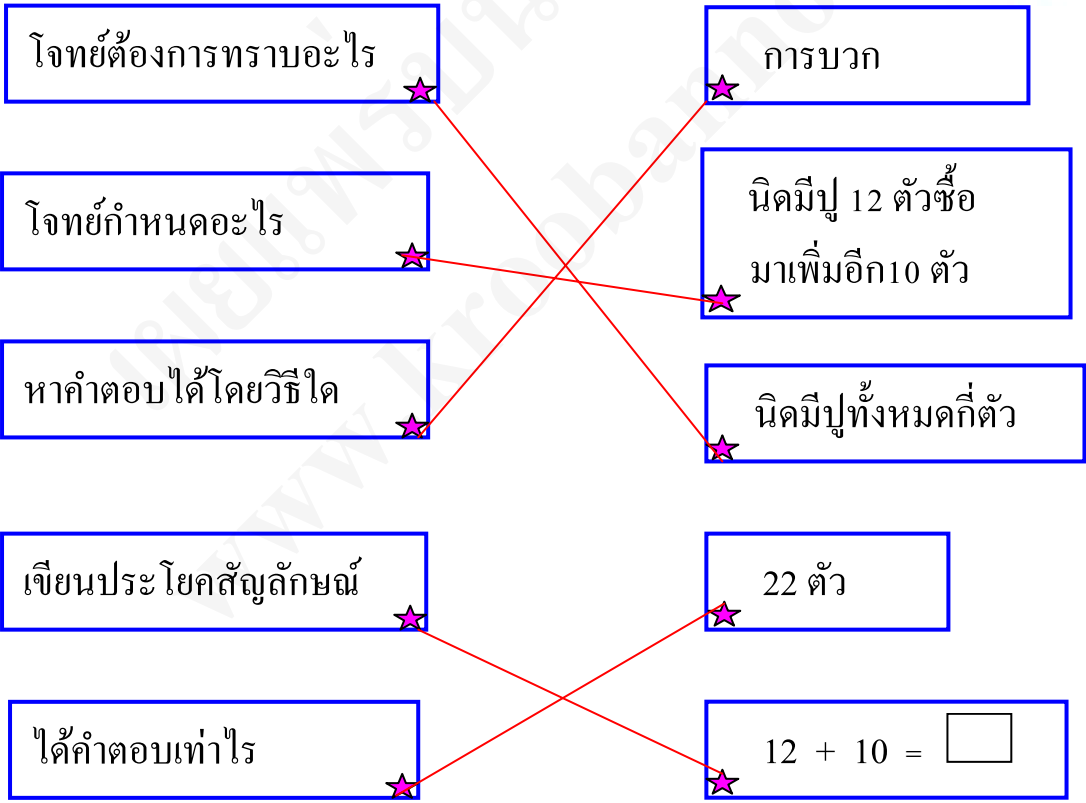
แบบฝึกทักษะชุดที่ 1
เรื่อง การวิเคราะห์โจทย์ปัญหาการบวกที่ไม่มีการทด

ตอนที่ 1

คำชี้แจง ให้นักเรียนโยงเส้นจับคู่ขั้นตอนการวิเคราะห์โจทย์ปัญหาให้ถูกต้อง (10 คะแนน)



นิตมีปู 12 ตัวซื้อมาเพิ่มอีก 10 ตัว
นิตมีปูทั้งหมดกี่ตัว



พยายามหน่อยนะ



โรงเรียนแห่งหนึ่งมีนักเรียนชาย 34 คนมีนักเรียนหญิง 32 คน โรงเรียนแห่งนี้มีนักเรียนทั้งหมดกี่คน

โจทย์กำหนดอะไร

โรงเรียนแห่งนี้มีนักเรียน ทั้งหมด 66 คน

ได้คำตอบเท่าไร

โรงเรียนแห่งนี้มีนักเรียน ทั้งหมดกี่คน

เดี๋ยวขอเวลาวิเคราะห์หน่อยนะ





สุดาขายปากกาสีแดงได้ 36 ด้าม ขายปากกาสีดำได้
32 ด้าม สุดาขายปากกาทั้งหมดได้กี่ด้าม

โจทย์ต้องการทราบอะไร

สุดาขายปากกาทั้งหมดได้
๖๘ ด้าม

โจทย์กำหนดอะไร


สุดาขายปากกาทั้งหมดได้กี่ด้าม

ได้คำตอบเท่าไร

สุดาขายปากกาสีแดงได้ 36 ด้าม
ขายปากกาสีดำได้ 32 ด้าม

หาคำตอบได้ไงนี่

เอื่อนี้ก็ออกแล้ว





แวมมีเสื่อ 26 ตัว ซื้อมาเพิ่มอีก 12 ตัว
แวมมีเสื่อรวมทั้งหมคกี่ตัว

โจทย์ต้องการทราบอะไร

28 ตัว

โจทย์กำหนดอะไร

$$26 + 12 = \square$$

หาคำตอบได้โดยวิธีใด

แวมมีเสื่อรวม
ทั้งหมดกี่ตัว

เขียนประโยคสัญลักษณ์

แวมมีเสื่อ 26 ตัว
ซื้อมาเพิ่มอีก 12 ตัว

ได้คำตอบเท่าไร

การบวก

เก่งจริงนะตัวแค้นี่
ทำแบบทดสอบได้เลย



ตอนที่ 2

คำชี้แจง ให้นักเรียนวิเคราะห์โจทย์ปัญหาแล้วตอบคำถามต่อไปนี้ (10 คะแนน)

ตัวอย่าง

ศึกษาตัวอย่างก่อนนะ



วันแรกคำอ่านหนังสือได้ 15 หน้า วันที่สองอ่านหนังสือได้ 12 หน้า รวมสองวันคำอ่านหนังสือได้ทั้งหมดกี่หน้า

1. โจทย์ต้องการทราบอะไร

รวมสองวันคำอ่านหนังสือได้ทั้งหมดกี่หน้า

2. โจทย์กำหนดอะไรให้บ้าง

วันแรกคำอ่านหนังสือได้ 15 หน้า วันที่สองอ่านหนังสือได้ 12 หน้า

3. หาคำตอบโดยวิธีการใด

การบวก

4. เขียนเป็นประโยคสัญลักษณ์

$$15 + 12 = \square$$

5. ได้คำตอบทำอะไร

รวมสองวันคำอ่านหนังสือได้ทั้งหมด ๒๗ หน้า



วืมีดอกกุหลาบ 15 ดอก มีดอกมะลิ 21 ดอก
วืมีดอกไม้รวมทั้งหมดกี่ดอก

1. โจทย์ต้องการทราบอะไร

.....
.....

2. โจทย์กำหนดอะไรให้บ้าง

วืมีดอกกุหลาบดอก
มีดอกมะลิดอก

3. หาคำตอบโดยวิธีการใด

.....
.....

4. เขียนเป็นประโยคสัญลักษณ์

.....
.....

5. ได้คำตอบทำไร

.....
.....

ง่ายจังเลย





ป่าสายซื่อมะม่วง 50 บาท ซื่องุ่น 42 บาท
ป่าสายต้องจ่ายเงินทั้งหมดกี่บาท



1. โจทย์ต้องการทราบอะไร

.....
.....

2. โจทย์กำหนดอะไรให้บ้าง

.....
.....
.....
.....

3. หาคำตอบโดยวิธีการใด

.....
.....

4. เขียนเป็นประโยคสัญลักษณ์

.....
.....

5. ได้คำตอบทำไร

.....
.....

รีบๆ หน่อยไปทำแบบทดสอบกัน

