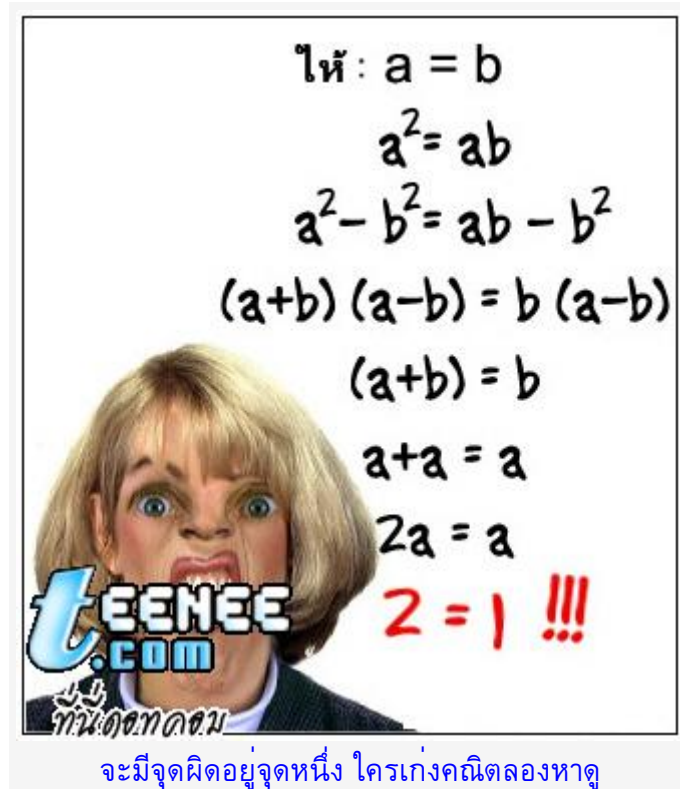


ภาพลวงตา...???



นำเสนอเมื่อ : 19 เม.ย. 2552




ให้: $a = b$
 $a^2 = ab$
 $a^2 - b^2 = ab - b^2$
 $(a+b)(a-b) = b(a-b)$
 $(a+b) = b$
 $a+a = a$
 $2a = a$
 $2 = 1 !!!$

TEENEE
.COM
งานอดิเรก

จะมีจุดผิดอยู่จุดหนึ่ง ใครเก่งคณิตลองหาดู
บางรูปคงเคยเห็นกัน



วงกลมตรงกลาง ชุดซ้าย ใหญ่กว่า ชุดขวา



บอกชื่อ และ ตำแหน่ง ของ 2 คนนี้



Can you find the Face of God in this picture?



ก๊วนดกดกน

Tip: Tilt your head to the right.


Indian or Eskimo




ก๊วนดกดกน



เชื่อหรือไม่ว่า เส้นแนวนอนเป็นเส้นตรง และ ขนานกัน







คนโกหกหลอกลวง



รูปนี้ต้องดูเอียงๆ จะเป็นตัวภาษาอังกฤษ แปลว่าโกหก

1. จ้องตาสีดำไว้ 2. มือปิดตาขวา 3. อ้าว! ตาวิเศษหายไปไหน

